



## Заповни таблицю



Доданок	Доданок	Сума
1		5
	6	8
2	3	
7	1	
	5	10

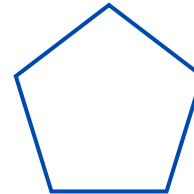


## Познач вирази з результатом 5

$6 + 1 - 3$    $3 + 3 - 1$    $2 + 2 + 1$

$10 - 6 + 1$    $7 - 3 + 2$    $7 - 4 + 2$

$9 - 2 - 2$    $8 - 3 - 1$    $1 + 6 - 2$

## Запиши кількість кутів у кожній фігурі



## Самооцінювання





## Заповни таблицю

Доданок	Доданок	Сума
2	3	
	7	10
1		3
5		8
	3	6

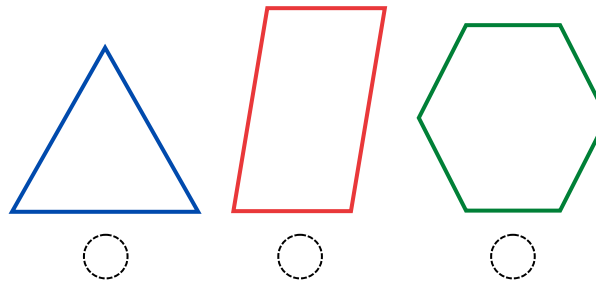
## Познач вирази з результатом 3

$9 - 2 - 5$    $5 + 1 - 3$    $2 + 3 - 2$

$6 + 1 - 4$    $7 - 5 + 1$    $6 - 5 + 2$

$8 - 2 - 2$    $8 - 1 - 6$    $9 - 3 - 3$

## Запиши кількість кутів у кожній фігурі



## Самооцінювання

