





РОЗВ'ЯЗУЄМО РІВНЯННЯ В 3 КЛАСІ


$$x \cdot 3 = 18$$




$$x - 16 = 34$$




$$2 \cdot x = 4$$




$$x - 3 = 30$$



$$50 + x = 63$$



$$x \cdot 5 = 20$$





РОЗВ'ЯЗУЄМО РІВНЯННЯ В 3 КЛАСІ

$$x \cdot 4 = 16$$

$$x - 48 = 50$$

$$3 \cdot x = 12$$

$$x - 17 = 3$$

$$20 + x = 50$$

$$x + 15 = 30$$

